

Alexandra Manea

Mircea Manea

NE JUCĂM! EXERSĂM!

CAIET DE ACTIVITATE INDEPENDENTĂ
APLICAȚII INTERDISCIPLINARE

Această lucrare este realizată în conformitate cu programa școlară
pentru clasa pregătitoare aprobată prin O.M.E.N. nr. 3418/19.03.2013

APROBAT
M.E.N.
2018



Clasa Pregătitoare



Editura Delta Cart Educațional - Călinești 2018

CUPRINS

REAMINTEȘTE-ȚI LITERELE!	1
A SOSIT VACANȚA!	4
O ZI DE VACANȚĂ	7
PRIETENA MEA, CARTEA	10
ÎN FAMILIE	13
LA BUNICI	16
ÎN LUMEA POVEȘTIILOR	19
VARA	22
FLORILE VERII	25
ÎN PARC	28
SĂ NE PĂSTRĂM SĂNĂTATEA!	32
DIN LUMEA NECUVÂNTĂTOARELOR	35
DIN LUMEA APELOR	38
NATURA, PRIETENA MEA!	41
JOCURI	44
JOACĂ-TE!	47
CEI TREI PURCELUȘI	48
JOCUL MINȚII	52
DACTILOPICTURĂ	53
PUZZLE	54

... Scrie cu creioane colorate zece litere mari de tipar.

... Completează literele care lipsesc.



FL _ TU _ E



A _ B _ _ A


FU _ N _ C _



B _ BU _ _ ZA



... Rezolvă problemele ilustrate.




--	--	--	--	--	--



--	--	--	--	--	--	--	--


... Unește punctele și colorează.



Așază florile astfel încât, să fie în număr egal în fiecare vas.



Decorează cele trei vase cu semne grafice.




Doi dintre acești câini sunt identici. Care?





ÎN PARC

🗨️ Observă imaginea. Adaugă alte elemente întâlnite de tine în parc. Colorează.



🗨️ În parc sunt:





👉 Încercuiește cu  cuvintele care denumesc aparatele de distracție din imagine.

CARUSEL

TRENULEȚ

MAȘINUȚE

BALANSOAR

LEAGĂN

TOBOGAN

ROLE

SKEYBOOL



a) Câți băieți sunt în parc?

$$\square + \square = \square$$

b) Colorează balansoarul în care copiii au greutate diferite.

c) Mihai  vrea să se dea în trenuleț, iar Daria  în carusel.

De câți bani au nevoie dacă biletul pentru carusel costă

iar biletul pentru trenuleț costă



d) Câte  are  ? Calculează.

--	--	--	--	--	--	--	--	--	--	--	--	--	--	--	--	--	--	--	--

e) Încercuiește numărul care arată câte aparate de distracție sunt în parc.

1 2 3 4 5 6 7 8 9 10

Realizează perechi de cuvinte după model.

ALB

MIC

MARE

GREU

UȘOR


LUNG

NEGRU

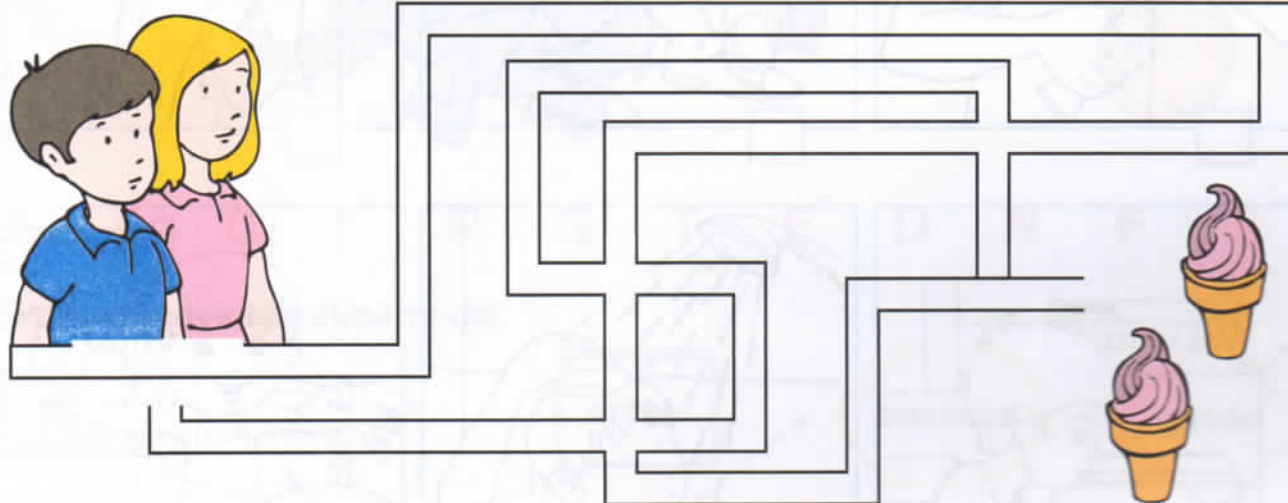
SCURT



 **Colorează cu verde toate dreptunghiurile mai mari decât dreptunghiul albastru.**





 **Ajută-i pe cei doi copii să ajungă la înghețate.**



 **Cățelușă PIKI are 1 pui negru și cu 2 mai mulți gri.**

- a) Câți pui gri are cățelușă?
b) Câți pui are cățelușă în total?





 **Marchează cu X regulile pe care le respecti și tu!**

- Sting becul când ies din cameră!
- Nu risipesc apa de la robinet!
- Opresc televizorul dacă nu mai privesc la el!
- Televizorul funcționează chiar dacă nimeni nu se uită la el.
- Nu dorm cu becul aprins!



JOCUL MINȚII


 Completează rebusurile.



			A						
1			D						
2									
3									
			4						
5									
6							N		



 Completează.



1

					A				
1									
			2						
			3						
4									
5									

