

7. Ajută maimuțele să adune banane. Unește, după model:


$72 : 8 \times 2$        $24 : 6 \times 3$        $4 \times 6$   
 $4 \times 3$        $64 : 8 \times 3$        $36 : 6 \times 3$   
 24      12      18  
 $36 : 9 \times 6$        $3 \times 8$        $2 \times 9$   
 $2 \times 6$        $27 : 9 \times 4$        $3 \times 6$

8. Zebra are 9 banane și vrea să le schimbe pe frunze. Maimuța dă 2 kg de frunze pentru 3 banane.

Câte kg de frunze va avea zebra, după ce face schimbul?

12

**16.** Într-un palmier sunt 3 gorile. Una are 164 kg, a doua cântărește cu 19 kg mai puțin, iar a treia gorilă cântărește cât diferența primelor două.  
Află cât cântăresc cele trei gorile în total.



**17.** Unește fiecare exercițiu cu rezultatul potrivit. Scrie literele în ordinea în care le-ai descoperit și vei obține numele unui animal care trăiește în savană.

START     $72 : 8$

5     $64 : 8$     P

9     $5 \times 8$     G

90    STOP    D


40     $36 : 9$     H

63     $9 \times 10$     R

4     $35 : 7$     E

8     $7 \times 9$     A

G	H					
40						










**20.** Identifică, în careul de mai jos, cinci ingrediente folosite la prepararea ciocolatei.  
Scrie-le pe spațiul alăturat:

Z	P	P	E	D	S	Q	S	S	V
D	U	I	U	N	T	W	U	S	A
C	I	P	T	S	A	E	C	A	N
A	X	E	R	P	F	R	D	L	I
C	A	R	S	M	I	T	V	A	L
A	L	U	N	E	D	Y	A	M	I
O	J	K	Y	B	F	U	R	O	E
O	T	E	T	N	G	I	Z	P	C
S	N	I	T	E	L	L	A	L	O
Z	A	H	A	R	H	J	K	M	U

1. \_\_\_\_\_
2. \_\_\_\_\_
3. \_\_\_\_\_
4. \_\_\_\_\_
5. \_\_\_\_\_

**21.** Privește cu atenție cutia de bomboane de mai jos. Indică locul fiecărei bomboane în cutie, după model.

8								
7								
6								
5								
4								
3								
2								
1								
	a	b	c	d	e	f	g	h

	<input type="text" value="d,7"/>
	<input type="text"/>
	<input type="text"/>
	<input type="text"/>
	<input type="text"/>
	<input type="text"/>
	<input type="text"/>



