

Conform  
noilor modele  
stabilite  
de MEN

# BAC 2018

Octavian Mândruț

Europa – România – Uniunea Europeană  
Probleme fundamentale

## GEOGRAFIE

REVIZUIT  
ȘI ADĂUGIT

**CORINT**

# INTRODUCERE

Prezenta culegere de teste reprezintă o ediție revizuită și îmbunătățită față de edițiile anterioare.

Lucrarea propune o abordare nouă a **procesului de evaluare bazată pe învățarea rațională a geografiei**, satisfăcând cerințele disciplinei școlare, dar și pe cele ale exigențelor examenului de bacalaureat.

În acest an școlar (2017-2018) se continuă oferirea gratuită a manualelor pentru elevii din ciclul liceal superior (clasele XI-XII).

Construirea unor teste după modelul celor din ultimii ani (2012–2017) apropie foarte mult exigențele pregătirii de cerințele examenelor propriu-zise.

Programa de examen ([www.edu.ro](http://www.edu.ro)) presupune un sistem de competențe și de cunoștințe pe care trebuie să le demonstreze candidatul la bacalaureat. Testele din această culegere sunt construite pe baza exigențelor programei de examen, nu numai pe baza unor elemente prezente în anumite manuale școlare. Pe această bază este posibilă, în condițiile unei învățări raționale și relativ continue, obținerea unei note care să reflecte aspirațiile fiecărui candidat.

Încă de la prima ediție a manualului școlar în uz pentru clasa a XII-a al Editurii Corint (*Europa – România – Uniunea Europeană. Probleme fundamentale*), a fost realizată o culegere cuprinzătoare de teste pentru evaluarea rezultatelor învățării, prima și singura de acest fel la momentul respectiv. Apariția acestei culegeri a reflectat o viziune modernă asupra învățării geografiei prin existența simultană a mai multor componente: manualul școlar, atlasele geografice (cuprinzând Europa și România), un ghid metodologic și culegerea de teste. Prezenta ediție de teste este îmbunătățită substanțial, incluzând, față de cele anterioare, un număr de sarcini (itemi) și teste noi.

Culegerea de față cuprinde:

- 1. elemente de reper**, în care este încurajată învățarea rațională prin intermediul suporturilor cartografice;
- 2. date de informare**, plasate la începutul culegerii (care nu sunt destinate memorării) și elemente complementare (mici prezentări ale țărilor din programa de examen și regiunile geografice ale României); datele de informare exced sensibil cerințele de examen;

**3. 27 de teste** cu un pronunțat caracter integrat, care ofertează o gamă foarte largă de întrebări, sarcini de lucru și probleme; numărul de teste este suficient de mare pentru a acoperi toate întrebările și așteptările posibile;

**4. baremele** asociate testelor, care permit atât verificarea rezolvării lor, cât și o certificare a calității învățării.

Examenul de bacalaureat de la sfârșitul acestui an școlar (2017-2018) are loc în contextul în care elevilor de clasa a XII-a li s-au pus la dispoziție gratuit manualele școlare. Această premisă creează o oportunitate nouă pentru învățarea geografiei, inclusiv pentru examenul de bacalaureat. Este asigurată astfel, întregii generații de elevi, o bază de învățare accesibilă.

Culegerea din acest an reproduce itemi (sarcini de lucru) din culegerea anterioară (BAC 2017), dar are și alte patru teste noi. Testele anterioare, 1-23, au fost actualizate, iar o parte dintre itemi au fost transformați sau înlocuiți. Testele 24-27 sunt noi și au un caracter integrator. Baremele (1-27) au fost revizuite și, acolo unde a fost necesar, au fost ameliorate sau dezvoltate.

Cu ajutorul acestei culegeri se poate realiza o învățare rațională a geografiei de clasa a XII-a, care **să faciliteze performarea la examenul de bacalaureat și obținerea unei note corespunzătoare așteptărilor**. O notă foarte bună la acest examen favorizează ridicarea mediei generale a examenului, cu efecte semnificative pentru fiecare absolvent.

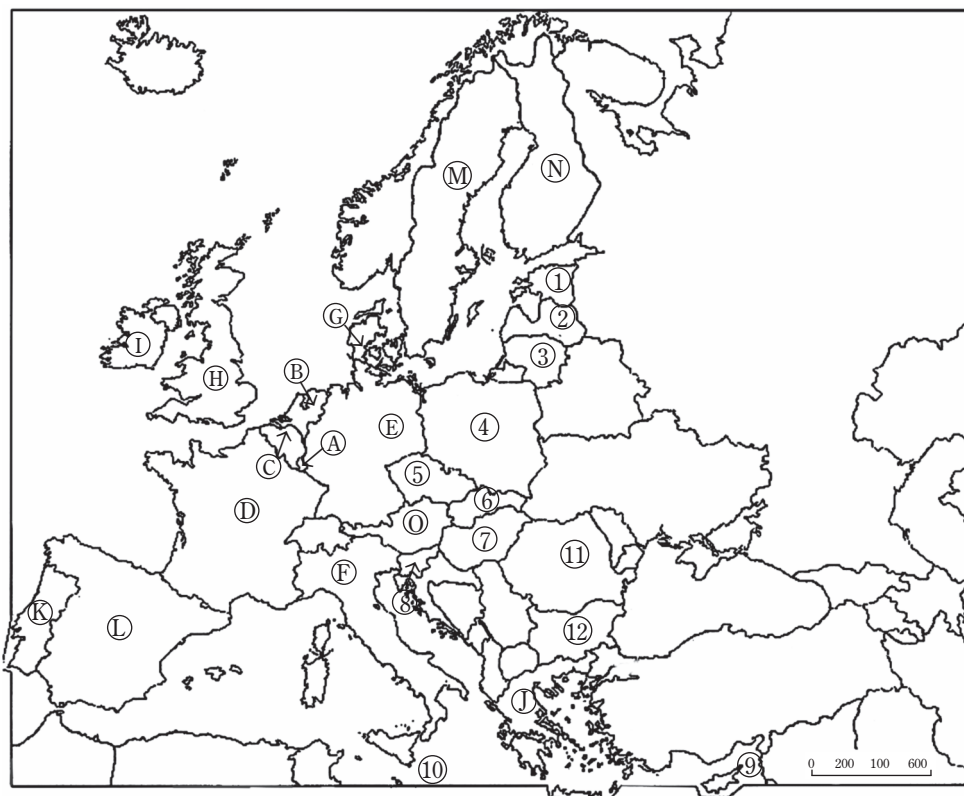
***Autorul***

# TESTUL 26

## Subiectul I

Harta de mai jos se referă la cerințele A–D.

Pe aceasta sunt marcate prin litere (A, B, C....) statele care au făcut parte din Uniunea Europeană înainte de anul 2004, iar prin cifre (1, 2, 3...) statele care au aderat în anii 2004 și 2007. La acestea, în anul 2013 s-a adăugat Croația.



Analizați harta și, pe baza acesteia, realizați următoarele cerințe:

A. Scrieți pe foaia de test litera corespunzătoare răspunsului corect, pentru fiecare dintre afirmațiile de mai jos:

1. Nicosia este capitala statului notat cu:  
a. 9;                      b. 10;                      c. 11;                      d. 12.
2. Cel mai populat stat al Uniunii Europene este notat cu litera:  
a. D;                      b. E;                      c. F;                      d. H.
3. Statele integrate în Uniunea Europeană în anul 2007 sunt notate cu:  
a. 11 și 12;              b. 7 și 9;                      c. 10 și 11;              d. 5 și 6.
4. Numărul **10** marchează statul din cadrul Uniunii Europene numit:  
a. Cipru;                      b. Italia;                      c. Malta;                      d. Grecia.
5. Între țările notate cu literele **D** și **L** se află statul:  
a. Andorra;                      c. Liechtenstein;  
b. Monaco;                      d. San Marino.

**5 x 2 p. = 10 p.**

B. Scrieți pe foaia de test răspunsurile corecte care completează afirmațiile de mai jos:

1. Capitala statului notat cu litera **M** se numește .....
2. Podișul Central, Munții Jura și fluviul Loara se află pe teritoriul statului notat cu litera .....
3. Sediul principal de coordonare al Uniunii Europene este situat în statul notat cu litera .....
4. Se limitează cu două țări ale Uniunii Europene și trei țări care nu aparțin Uniunii Europene statul numit .....
5. Insulele Sardinia și Sicilia fac parte din statul notat cu litera .....
6. Capitala Croației este orașul .....

**6 x 2 p. = 12 p.**

C. Prezentați două elemente geografice comune ale celor două țări (considerate împreună) incluse în Uniunea Europeană în anul 2007.

**2 x 2 p. = 4 p.**

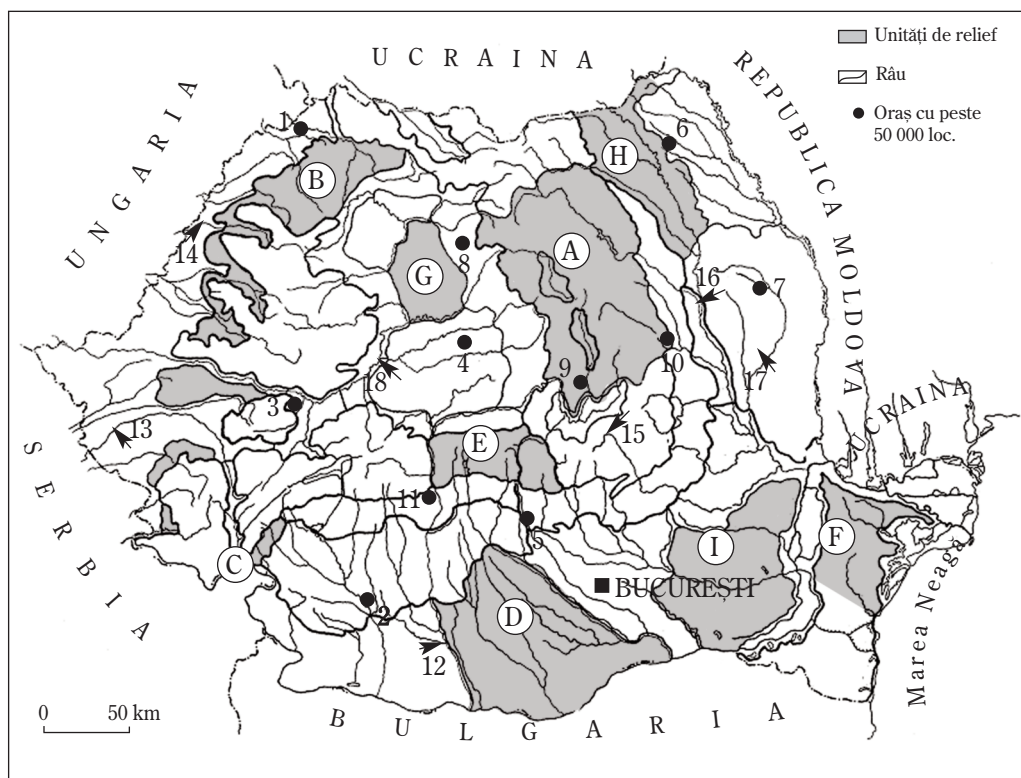
D. Prezentați două asemănări între clima statelor notate cu **9** și **10**.

**2 x 2 p. = 4 p.**

**Subiectul I = 30 p.**

## Subiectul II

Harta de mai jos se referă la cerințele A–D. Pe aceasta sunt marcate și localizate prin litere (A, B, C...) mai multe regiuni, unități sau subunități de relief, prin numere (1–11) orașe, iar prin săgeți și numere (12–18) sunt marcate și notate râuri.



Analizați harta și, pe baza acesteia, realizați următoarele cerințe:

A. Scrieți pe foaia de test răspunsurile corecte care completează afirmațiile de mai jos:

1. Munții Făgăraș-Bucegi sunt reprezentați și notați pe hartă cu litera .....
2. Lacul Izvorul Muntelui și hidrocentrala Stejaru (Bicaz) sunt situate în unitatea de relief notată cu litera .....
3. Cu litera **H** este notat și localizat Podișul .....

**3 x 2 p. = 6 p.**

B. Scrieți pe foaia de test litera corespunzătoare răspunsului corect, pentru fiecare dintre afirmațiile de mai jos:

1. Cele mai vechi roci și forme de relief se află în regiunea marcată cu litera:

- a. A;                      b. C;                      c. D;                      d. F.

2. Climă asemănătoare au regiunile marcate cu literele:

- a. A și B;                      b. E și B;                      c. I și H;                      d. I și F.

3. Regiunea notată cu litera **D** se remarcă prin:

- a. relieful de dealuri;  
b. extensiunea mare a terenurilor arabile;  
c. resursele de cărbuni;  
d. potențialul ridicat de energie geotermală.

4. Râul marcat și notat cu **15** este:

- a. Buzău;                      b. Olt;                      c. Prahova;                      d. Trotuș.

5. Orașul notat pe hartă cu cifra **5** este:

- a. Pitești;                      b. Târgoviște;                      c. Ploiești;                      d. Râmnicu-Vâlcea.

**5 x 2 p. = 10 p.**

C. Precizați:

1. două deosebiri între clima regiunii notate cu **H** și clima regiunii notate cu **I**;

2. două asemănări între relieful regiunii notate cu **A** și relieful regiunii notate cu **E**.

**4 x 2 p. = 8 p.**

D. Pentru regiunea notată cu **E**, precizați:

1. poziția geografică;

2. două elemente specifice reliefului.

**3 x 2 p. = 6 p.**

**Subiectul II = 30 p.**

### Subiectul III

A. Pentru **Ungaria**, precizați:

1. două caracteristici ale mediului natural (la alegere între cele referitoare la poziția geografică, treptele și unitățile de relief, caracteristicile climei);

2. numele a două râuri sau fluvii.

3. o regiune turistică.

**5 x 2 p. = 10 p.**

B. Pentru **Austria**, menționați:

1. un stat cu care se mărginește în partea de nord;

2. o unitate montană;

3. numele unui oraș (altul decât capitala).

**3 x 2 p. = 6 p.**

C. Aveți în vedere următorul tabel cu date din anul 2016.

<b>Nr. crt.</b>	<b>Statul</b>	<b>Populația (loc.)</b>	<b>Suprafața (km<sup>2</sup>)</b>	<b>Densitatea populației (loc./ km<sup>2</sup>)</b>
1.	Bulgaria	7 300 000	111 000	66
2.	Franța	64 300 000	544 000	
3.	România		238 000	94
4.	Italia	60 000 000	300 000	

1. Completați tabelul cu datele care lipsesc.
2. Explicați densitatea ridicată a populației Italiei.
3. Valoarea populației țării noastre în cazul în care densitatea populației ar fi de 100 loc./km.

**5 x 2 p. = 10 p.**

D. Precizați:

1. o cauză posibilă a scăderii populației țărilor din partea de est și de sud-est a Europei;
2. o cauză a ponderii mari a atomoenergiei (energiei atomice) în Franța.

**2 x 2 p. = 4 p.**

**Subiectul III = 30 p.**

**Total punctaj (I, II, III) = 90 p.**

**Din oficiu = 10 p.**

**Total test = 100 p.**

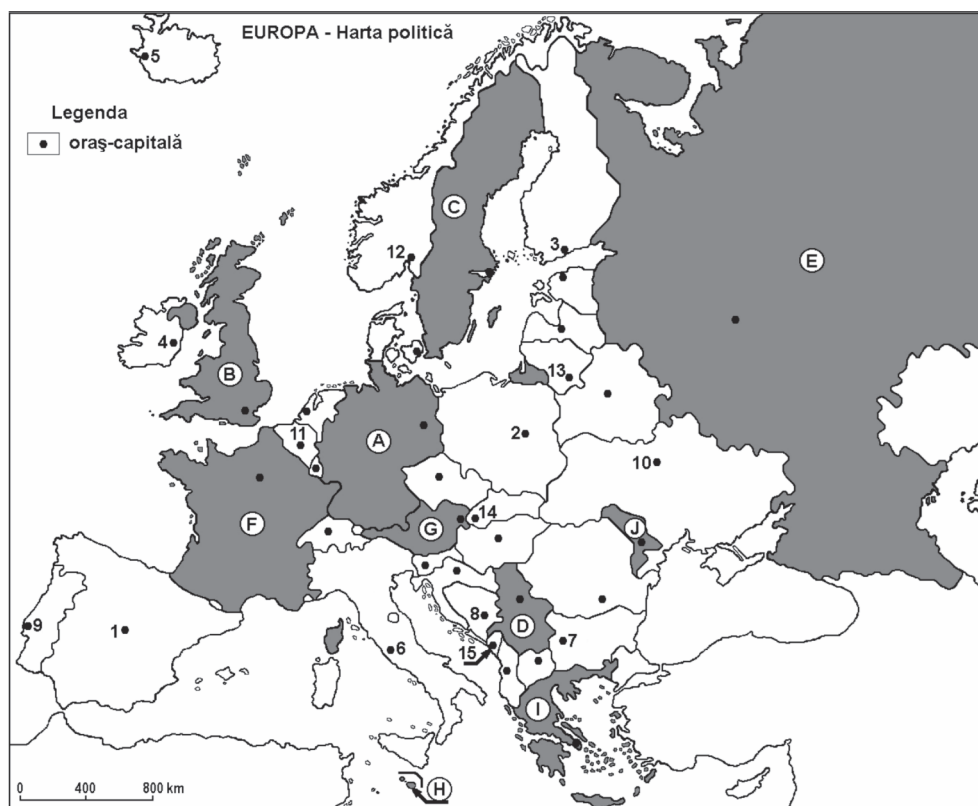


# TESTUL 27

## Subiectul I

Harta de mai jos se referă la cerințele A–E.

Pe aceasta sunt marcate prin litere (A, B, C, ...) țări și prin cifre (1, 2, 3...) orașe-capitale.



Analizați harta și, pe baza acesteia, realizați următoarele cerințe:

A. Precizați:

1. tipul de țărâm al țării care are capitala notată cu **12**;
2. numele orașului-capitală notat cu cifra **3**;
3. numele unui port situat în statul notat cu litera **B**.

**3 x 2 p. = 6 p.**

B. Scrieți pe foaia de test litera corespunzătoare răspunsului corect pentru fiecare dintre afirmațiile de mai jos.

1. În sudul statului notat cu litera **F** se află statul Andorra, care este:
- a. o republică;
  - b. ducat;
  - c. monarhie (regat);
  - d. principat.

2. În **J** există, predominant:

- a. o vegetație de semideșert și soluri brune și cenușii brune;
- b. o vegetație de stepă și soluri de tip cernoziom;
- c. o vegetație mediteraneeană și soluri maronii-roșcate;
- d. păduri de conifere și spodosoluri.

3. Capitala statului notat cu litera **D** este:

- a. Tirana;
- b. Podgorica;
- c. Skopje;
- d. Belgrad.

4. Minereuri de fier de calitate superioară se extrag din statul notat pe hartă cu litera:

- a. C;
- b. D;
- c. A;
- d. J.

**4 x 2 p. = 8 p.**

C. Realizați o scurtă prezentare geografică a statului notat cu litera **G**:

- a. poziția în cadrul continentului european;
- b. o caracteristică a reliefului – tipul de orogeneză;
- c. două diviziuni majore ale reliefului.

**4 x 2 p. = 8 p.**

D. Precizați numele orașelor-capitală notate cu cifrele **2** și **3**.

**2 x 2 p. = 4 p.**

E. 1. Câmpia Traciei Superioare (străbătută de râul Marița) se află pe teritoriul statului a cărui capitală este marcată pe hartă cu cifra:

- a. 7;
- b. 2;
- c. 8;
- d. 6.

2. Orașul marcat pe hartă cu numărul **15** este capitala statului:

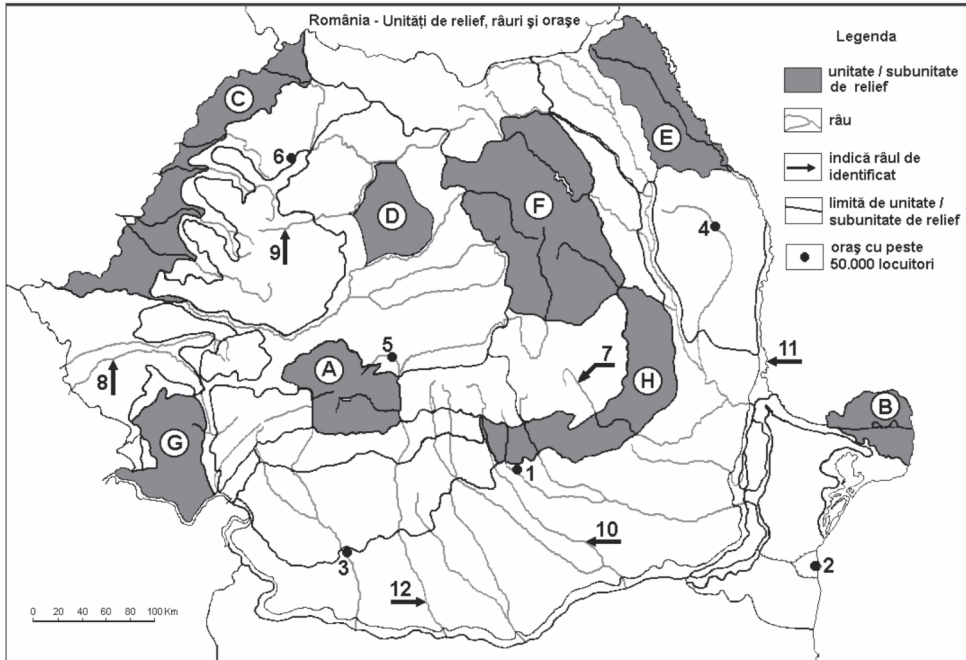
- a. Albania;
- b. Croația;
- c. Muntenegru
- d. Slovenia.

**2 x 2 p. = 4 p.**

**Subiectul I = 30 p.**

## Subiectul II

Harta de mai jos se referă la cerințele A–D. Pe aceasta sunt marcate unități de relief prin litere (A, B, C...), iar prin numere orașe (1–6) și râuri (7–12).



A. Scrieți pe foaia de test litera corespunzătoare răspunsului corect, pentru fiecare dintre următoarele afirmații:

- Orașul notat cu cifra **3** este:
  - Drobeta-Turnu-Severin;
  - Târgu-Jiu;
  - Craiova;
  - Râmnicu-Vâlcea.
- Orașul notat cu cifra **5** este situat într-o depresiune:
  - intramontană;
  - subcarpatică;
  - intracolinară;
  - submontană.
- Orașul notat cu cifra **4** este reședința județului:
  - Bacău;
  - Iași;
  - Neamț;
  - Vaslui.
- Orașul notat cu **1** este un centru al industriei:
  - petrochimice;
  - siderurgice;
  - de automobile;
  - metalurgiei neferoase.

5. Relief vulcanic (cu cratere și conuri) se află în regiunea:

- a. A;                      b. B;                      c. C;                      d. F.

6. Lacuri glaciare s-au format în regiunea notată cu:

- a. A;                      b. F;                      c. G;                      d. H.

**6 x 2 p. = 12 p.**

B. Comparați:

1. clima regiunilor notate pe hartă cu **A** și **D**, precizând două deosebiri sub raportul caracteristicilor de bază ale climei (factorii genetici, elementele climei – temperatura medie, precipitații, vânturi, nuanțe de climă);
2. relieful regiunilor notate cu **H** și **C**, precizând două deosebiri sub raportul caracteristicilor reliefului (treaptă de relief, substrat, forme de relief, altitudini etc.).

**4 x 2 p. = 8 p.**

C. Analizați caracteristicile geografice ale regiunilor notate cu **B** și **G**, precizând câte un element de importanță europeană pentru fiecare.

**2 x 2 p. = 4 p.**

D. România este o țară central-europeană, pontică și dunăreană. Menționați trei elemente care decurg din această poziție.

**3 x 2 p. = 6 p.**

**Subiectul II = 30 p.**

### Subiectul III

A. Urmăriți datele din tabelul de mai jos.

Statul	Suprafața (km <sup>2</sup> )	Suprafața agricolă (km <sup>2</sup> )	Produse agricole principale
Regatul Unit	243 300	160 000	grâu, orez, cartofi, sfeclă-de-zahăr
Italia	302 000	126 000	grâu, orz, porumb, orez, sfeclă-de-zahăr
România	238 400	140 000	porumb, grâu, orz, floarea-soarelui
Polonia	312 000	146 000	grâu, orz, secară, cartofi, porumb

Precizați:

1. Statul cu cea mai mare pondere a suprafeței agricole din suprafața totală.
2. O cauză a suprafeței agricole mai mari în Polonia față de Italia, în condițiile în care cele două state au dimensiuni comparabile.
3. Cum se explică diferențele dintre produsele agricole principale din fiecare țară.

**3 x 2 p. = 6 p.**

B. Pentru **Ucraina**, precizați:

1. numele unei unități de relief;
2. numele capitalei și al unui alt oraș;
3. o resursă de bază a scoarței terestre;
4. vegetația predominantă;
5. o resursă principală de producere a energiei electrice.

**5 x 2 p. = 10 p.**

C. Analizați tabelul de mai jos.

<b>Anul</b>	<b>0–14 ani</b>	<b>15–64 ani</b>	<b>65 și peste</b>
1992	31%	58%	11%
2016	20%	62%	18%

1. Precizați cum s-a modificat ponderea populației tinere (0–14 ani) între 1992 și 2016 și o cauză a fenomenului observat.
2. Precizați cum s-a modificat ponderea populației de vârstă medie (15–64 ani) prin comparație cu a celei vârstnice (65 ani și peste):
3. O consecință a evoluției populației țării noastre în viitor, rezultată din analiza datelor din tabel.

**4 x 2 p. = 8 p.**

D. Precizați:

1. Forma de guvernare din Luxemburg.
2. Denumirea principatului situat în Munții Pirinei.
3. O țară atlantică și, în același timp, mediteraneană.

**3 x 2 p. = 6 p.**

**Subiectul III = 30 p.**

**Total punctaj (I, II, III) = 90 p.**

**Din oficiu = 10 p.**

**Total test = 100 p.**

## TESTUL 27

### Subiectul I

- A. Se acordă în total 6 p., câte 2 p. pentru fiecare răspuns corect, astfel: 1. țărâm cu fiorduri; 2. Helsinki; 3. la alegere între Londra, Liverpool, Glasgow, Hull, Southampton, Cardiff etc.
- B. Se acordă în total 8 p., câte 2 p. pentru următoarele răspunsuri: 1. d; 2. b; 3. d; 4. a.
- C. Se acordă în total 8 p., câte 2 p. pentru fiecare răspuns corect: a. în partea centrală a Europei; b. orogeneza alpină; c. două diviziuni dintre Carpații Păduroși, Tatra, Carpații Meridionali, Carpații Orientali etc.
- D. Se acordă în total 4 p., câte 2 p. pentru fiecare răspuns corect, astfel: Varșovia, Helsinki.
- E. Se acordă în total 4 p., câte 2 p. pentru: 1. a., 2. c.

### Subiectul II

- A. Se acordă în total 12 p., câte 2 p. pentru următoarele răspunsuri: 1. c, 2. d, 3. d, 4. a, 5. d, 6. a.
- B. Se acordă în total 8 p., câte 2 p. pentru patru deosebiri dintre: 1. două deosebiri referitoare la climă, dintre: precipitațiile mai mari în A decât în D, temperatura medie mai mare în D decât în A, climat montan în A și de podiș în D etc.; 2. două deosebiri dintre: dealuri cutate în H, câmpie în C; suprafață netedă în C și mai accidentată în H; roci diferite și relief diferit.
- C. Se acordă în total 4 p., câte 2 p. pentru fiecare element (în total două), astfel:  
a) rezervație a biosferei, relief deltaic;  
b) Defileul Dunării (cel mai mare din Europa).
- D. Se acordă în total 6 p., câte 2 p. pentru: 1. legătura cu centrul Europei, climat și vegetație central-europeană; 2. una dintre: transporturi maritime, deschiderea spre Oceanul Planetar, comerț internațional, construcția de nave, tranzit maritim; 3. colectarea rețelei hidroenergetice, transport fluvial, hidroenergie, pescuit.

### Subiectul III

- A. Se acordă în total 6 p., câte 2 p. pentru următoarele răspunsuri: 1. Regatul Unit; 2. relief mai accidentat în Italia; 3. pe baza diferențelor climatice.

- B. Se acordă în total 10 p., câte 2 p. pentru următoarele răspunsuri: 1. Carpații (Păduroși), Câmpia Niprului; 2. Kiev și oricare alt oraș; 3. huilă; 4. stepă și silvo-stepă; 5. energie termică.
- C. Se acordă în total 8 p., câte 2. pentru următoarele răspunsuri:
1. a scăzut (2 p.) din cauza scăderii natalității (2 p.);
  2. a crescut foarte puțin (2 p.);
  3. scăderea populației țării (2 p.).
- D. Se acordă în total 6 p., câte 2 p. pentru următoarele răspunsuri corecte: 1. ducă; 2. Andorra; 3. Franța sau Spania.

# CUPRINS

Introducere .....	3
Partea I. ELEMENTE DE REPER .....	5
Partea a II-a. Date de informare .....	10
Partea a III-a. Teste .....	29
TESTUL 1 .....	31
TESTUL 2 .....	37
TESTUL 3 .....	42
TESTUL 4 .....	47
TESTUL 5 .....	52
TESTUL 6 .....	57
TESTUL 7 .....	62
TESTUL 8 .....	67
TESTUL 9 .....	72
TESTUL 10 .....	77
TESTUL 11 .....	82
TESTUL 12 .....	87
TESTUL 13 .....	92
TESTUL 14 .....	97
TESTUL 15 .....	102
TESTUL 16 .....	107
TESTUL 17 .....	112
TESTUL 18 .....	117
TESTUL 19 .....	123
TESTUL 20 .....	128
TESTUL 21 .....	133
TESTUL 22 .....	139
TESTUL 23 .....	145
TESTUL 24 .....	151
TESTUL 25 .....	156
TESTUL 26 .....	161
TESTUL 27 .....	166
Partea a IV-a. BAREME .....	171