

*Mă joc, scriu și învăț*  
**OPERAȚIILE  
MATEMATICE**

LARISA RACU

Vârsta  
**5+**



- *Adunarea*
- *Scăderea*
- *Înmulțirea*
- *Împărțirea*

**Învăță cu Radu operațiile matematice!**

Conform Programei școlare  
aprobate de Ministerul Educației Naționale

Editura  
**ANDREAS**



Mama-găină și-a pierdut cei 6 puișori.  
Adună puișorii din fiecare grup și scrie suma.  
Dacă suma este 6, înseamnă că ai găsit grupul de puișori răătăciți

$$\begin{array}{ccccccc} \text{chick} & \text{chick} & \text{chick} & + & \text{chick} & \text{chick} & = \end{array}$$

$$\begin{array}{ccccccc} & \text{chick} & & + & \text{chick} & \text{chick} & = \end{array}$$

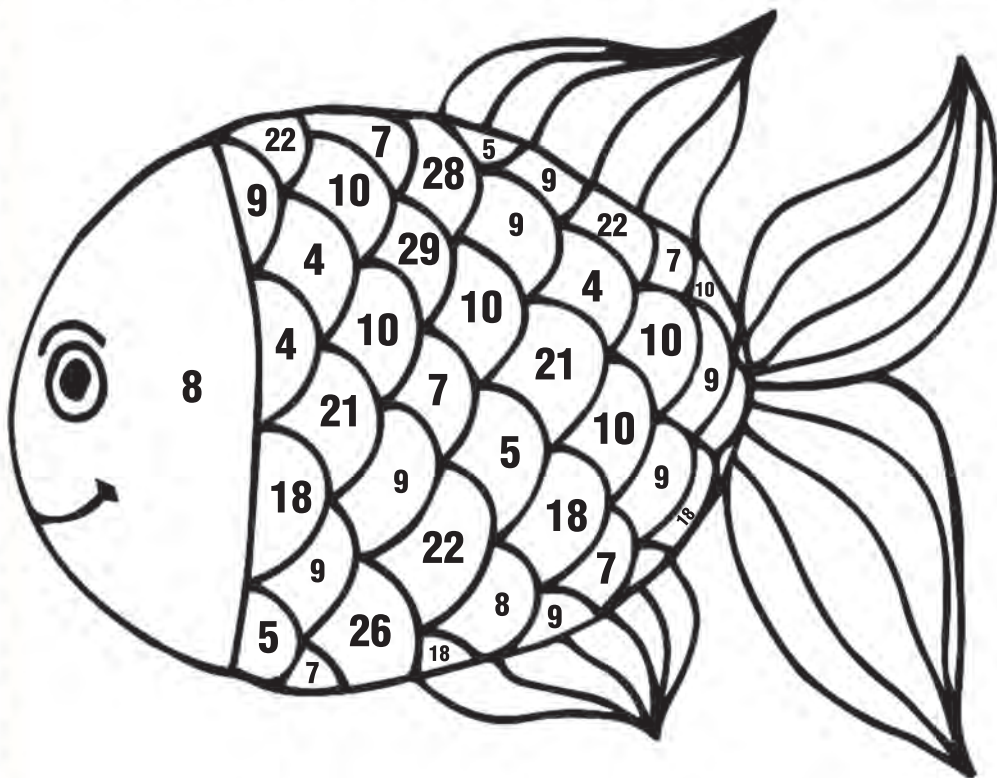
$$\begin{array}{ccccccc} \text{chick} & \text{chick} & \text{chick} & + & \text{chick} & \text{chick} & = \\ \text{chick} & \text{chick} & & & & & \end{array}$$

$$\begin{array}{ccccccc} \text{chick} & \text{chick} & \text{chick} & + & \text{chick} & \text{chick} & \text{chick} & = \end{array}$$

$$\begin{array}{ccccccc} \text{chick} & \text{chick} & \text{chick} & + & \text{chick} & & = \end{array}$$

$$\begin{array}{ccccccc} \text{chick} & \text{chick} & \text{chick} & \text{chick} & + & \text{chick} & \text{chick} & \text{chick} & \text{chick} & = \end{array}$$

Adună și colorează corespunzător solzii peștelui.



roșu

$6 + 3 =$

$2 + 5 =$

$3 + 2 =$

$2 + 2 =$

galben

$5 + 3 =$

$4 + 5 =$

$5 + 5 =$

$3 + 1 =$

albastru

$17 + 4 =$

$12 + 10 =$

$9 + 9 =$

$22 + 4 =$

mov

$6 + 4 =$

$15 + 5 =$

$25 + 4 =$

$15 + 13 =$

Încercuiește mingile de mai jos  
al căror rezultat este cifra 9.





Răducu are nevoie de tine ca să ajungă la comoară!  
Rezolvă împreună cu el exercițiile  
și descoperă drumul corect!

Start!  $8-2=$

$10-5=$

$8-4=$

$9-3=$

$10-7=$

$13-11=$

$14-2=$

$21-12=$

$27-12=$



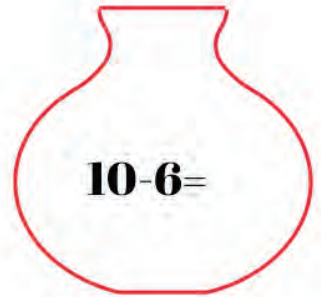
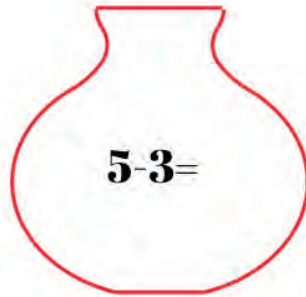
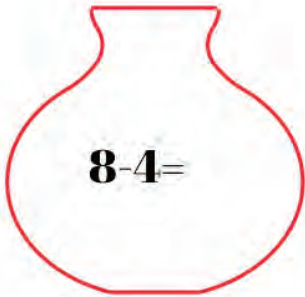
N  
W E S



Maria are nevoie de ajutorul tău pentru a umple aceste vase de flori.

Rezolvă scăderile iar apoi desenează în fiecare vază

tot atâtea flori cât îți indică numărul rezultat.





Albina Lili își dorește un stup colorat.

Tu o poți ajuta, dacă vei colora fagurele care conține atât operația de înmulțire, cât și fagurele cu numărul rezultat în aceeași culoare.

$0 \times 11$	10	$3 \times 1$	16	$3 \times 9$	$9 \times 2$
	18		8		27
$3 \times 11$		3		$9 \times 8$	
	$12 \times 2$		25		$5 \times 2$
60		$9 \times 9$		81	
	$4 \times 4$		24		33
$6 \times 9$		$5 \times 9$		$5 \times 5$	
	$11 \times 9$		$8 \times 1$		36
$2 \times 1$		2		0	
	$12 \times 3$		$10 \times 6$		72
54		45		99	



Ajută-l pe Carapacel să scrie răspunsul corect în interiorul perlei.



Exersează-ți abilitățile de înmulțire  
folosind grupurile de animale de mai jos.



$$3 \times 2 = \underline{\quad}$$



$$2 \times 2 = \underline{\quad}$$



$$4 \times 2 = \underline{\quad}$$



$$3 \times 3 = \underline{\quad}$$



Ajut-o pe Măriuca să rezolve exercițiile de pe ceasuri!  
Privește înmulțirea din fiecare ceas și scrie rezultatul în chenarul de sub ea.

Verifică de două ori – știu că poți reuși!

